

12. září

NAŠE MODRÁ PLANETA

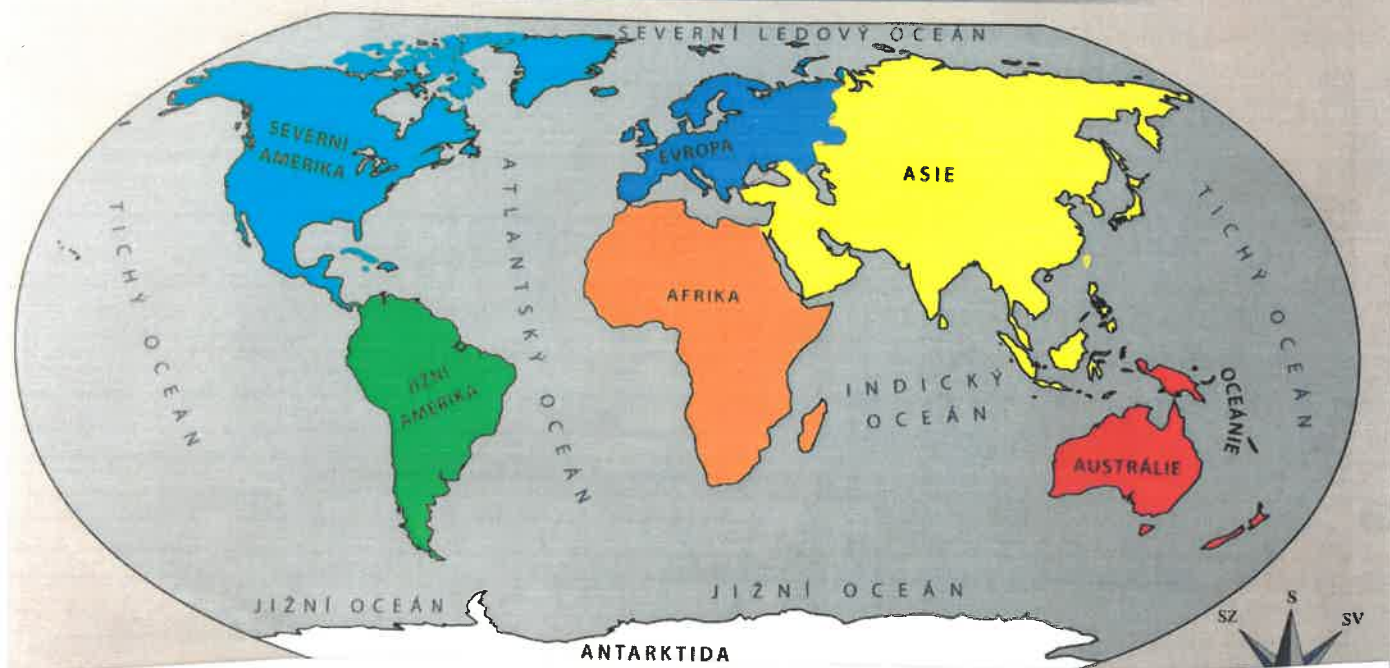
Největší část povrchu pokrývají vodní
(4 části)

- Tichý
- Atlantský
- Indický
- severní ledový

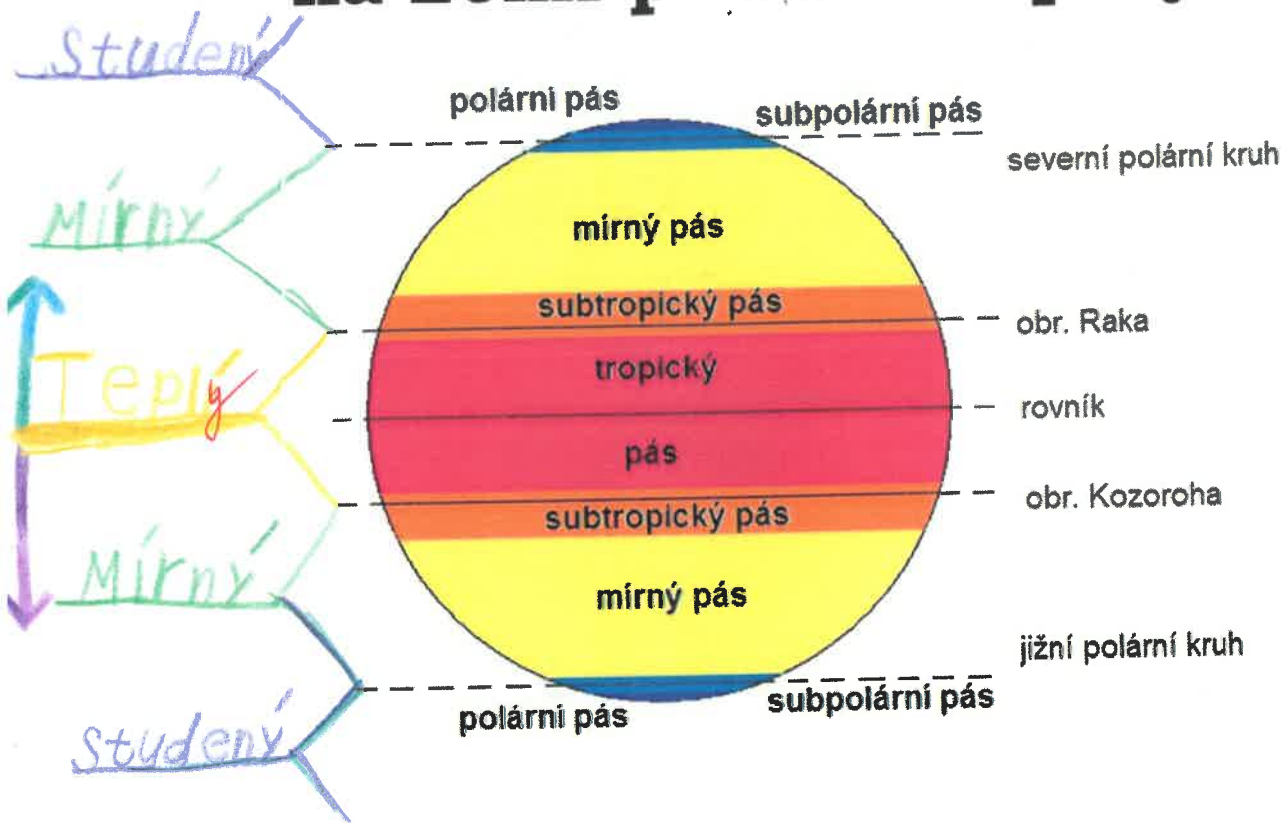
Oceány jsou odděleny velkými pevninami = světadíly (kontinenty) - 6 částí

- Asie
- Evropa
- Amerika
- Afrika
- Austrálie
- Antarktida

III. OCEÁNY A SVĚTADÍLY



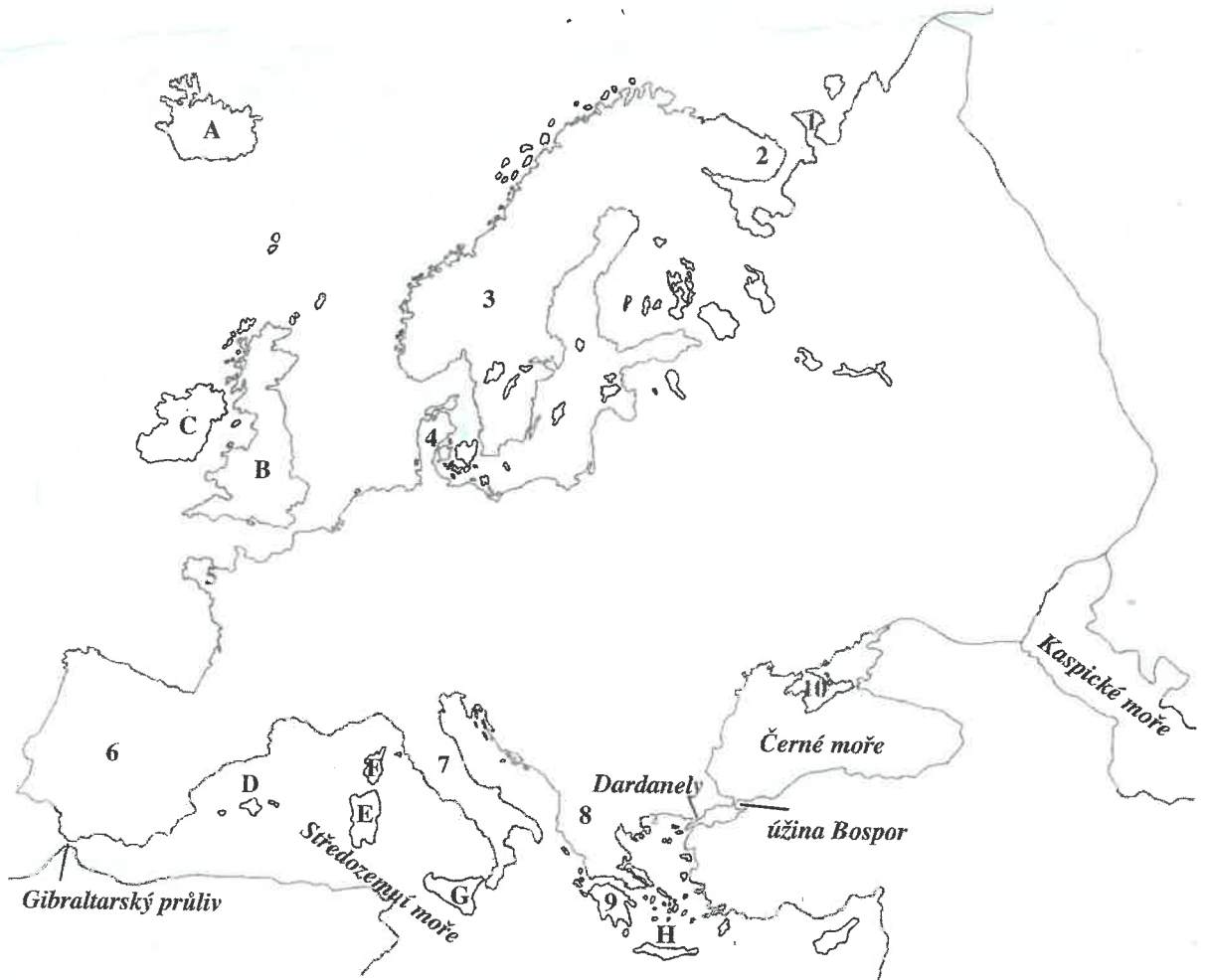
Díky zeměpisné šířce existují na Zemi podnebné pásy.



Evropa - poloha a povrch

1. Nauč se zakreslit do mapy hranice Evropy.

Pohoří Ural, řeka Emba, pobřeží Kaspického moře, Černé moře, úžinou Bospor a Dardanely do Středozemního moře, Gibraltarský průliv, Atlantický oceán, Severní ledový oceán.



2. Doplň podle mapy Evropy názvy poloostrovů a ostrovů.

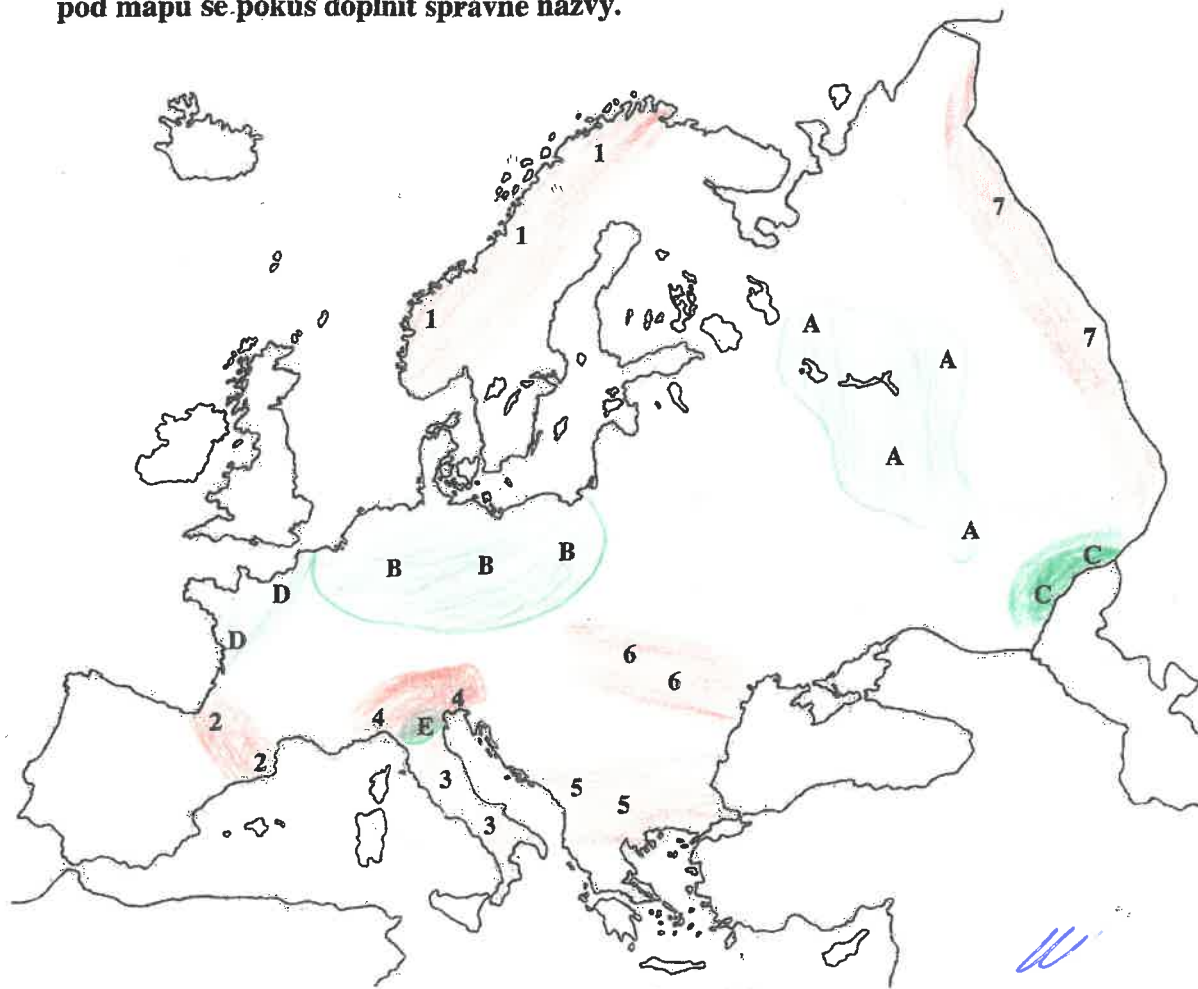
POLOOSTROVY

- 1 - pol. Kanin
- 2 - pol. Kola
- 3 - Skandinávský pol.
- 4 - Jutský pol.
- 5 - Británský pol.
- 6 - Pirenejský pol.
- 7 - Apeninský pol.
- 8 - Balkanský pol.
- 9 - Pelopónes
- 10 - pol. Krym

OSTROVY

- A - Island
- B - Velká Británie
- C - Irsko
- D - Mallorca
- E - Sardinie
- F - Korajka
- G - Sicílie
- H - Krete

Zakresli pohoří (označená čísla) hnědě a nížiny (označené písmeny) zeleně. Do tabulky pod mapu se pokus doplnit správné názvy.



POHOŘÍ

- 1 - Skandinávské p.
- 2 - Pyreneje
- 3 - Apeniny
- 4 - Alpy
- 5 - Balkánské hory (Hráčá planina)
- 6 - Karpaty
- 7 - Ural

NÍŽINY

- A - Východoevropská
- B - Středoevropská
- C - Kaspická
- D - Francouzská
- E - Pádská

a) Můžeš v mapě vyhledat nejvyšší hory jednotlivých pohoří a napsat je do přehledu.

Nejvyšší hora Evropy je Mont. Blanc leží v pohoří Alpy měří 4807 m

- 1 pohoří, které dalo název poloostrovu, v jehož blízkosti leží ostrovy Korsika, Sardinie a Sicílie
- 2 oceán rozkládající se při severním pólu
- 3 řeka protékající nížinou mezi Alpami a Apeninami
- 4 pohoří na hranicích Španělska a Francie, podle kterého je pojmenován poloostrov oblévaný na západě Atlantským oceánem

1		A	P	E	N	I	N	Y	
2	S	E	V	E	R	N	I	L	E
3			P	A	D				
4			P	Y	R	E	N	E	J

Tajenka:



Podle obrázku přiřaď správná písmena k názvům vybraných poloostrovů a ostrovů. Vezmi si na pomoc mapu Evropy na konci učebnice.

Apeninský poloostrov C ✓

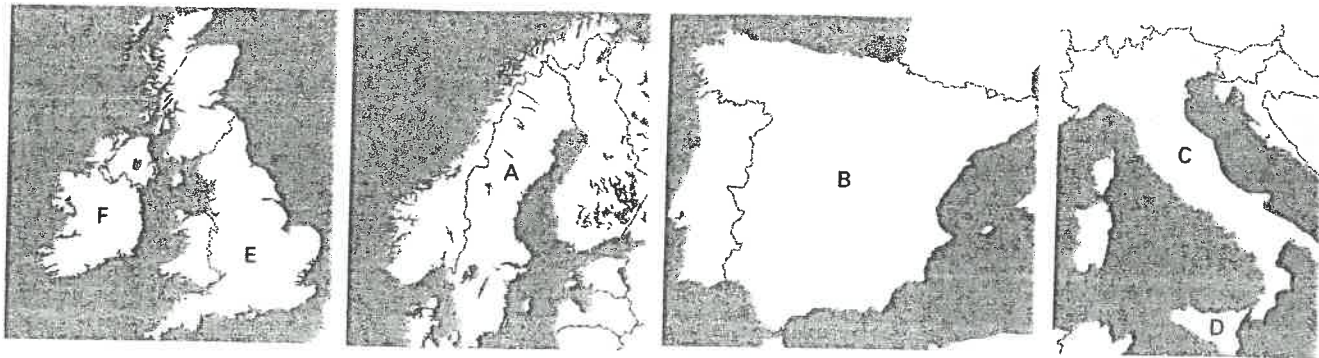
Britské ostrovy E ✓

Sicílie D ✓

Irsko F ✓

Pyrenejský poloostrov B ✓

Skandinávský poloostrov A ✓



DÚ

pohoří	nadmorská výška nejvyšší hory	název nejvyšší hory
Alpy	4807 m	Mont Blanc
Pyreneje	3404 m	Pico de Aneto
Apeniny	2914 m	Corno Grande
Karpaty	2655 m	Gyrlachovský štít
Skandinávské pohoří	2469 m	Galdhøpiggen
Ural	1895 m	Narodnaja
Krkonoše	1602 m	Sněžka

Spoj čarami části vět, které k sobě patří:

Nejvyšším pohořím Evropy

Skandinávským poloostrovem prochází

Nejvyšší evropská nížina

Atlantský oceán oblévá Evropu

Skandinávské pohoří.

jsou Alpy.

na západě.

leží na východě Evropy.



Vyznač ve čtyřsměrci názvy pohoří hnědě a nížin zeleně.

S T Ř E D O E V R O P S K Á
 B A L K Á N Y N I N E P A Á
 P Á K C I P S A K U R A L K
 P Y R E N E J E O Y P L A S
 V F R A N C O U Z S K Á R D
 V Ý C H O D O E V R O P S K Á
 É K S V Á N I D N A K S C H P

a) Ze zbylých písmen slož tajenku a doplň věty.

P O V R

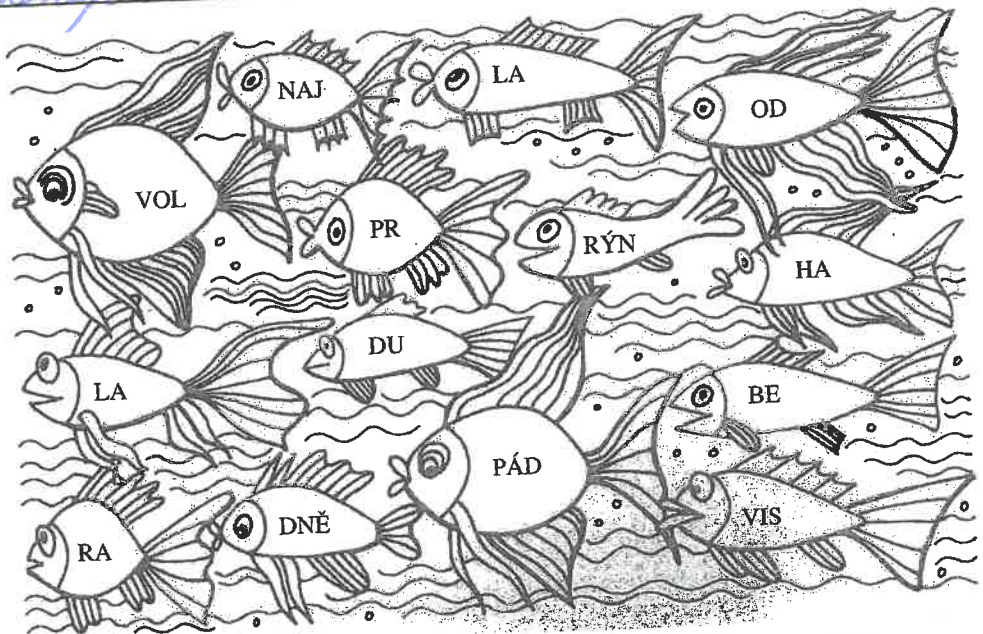
Evropy je většinou *nížinný*. Nejvyšší hory se tyčí v *střední* části.

5. Doplň názvy pohoří, která se rozkládají na evropských poloostrovech.

Skandinávský poloostrov *Skandinávské p.* Apeninský poloostrov - *Apeniny*
 Pyrenejský poloostrov - *Pyreneje* Balkánský poloostrov - *Balkán*

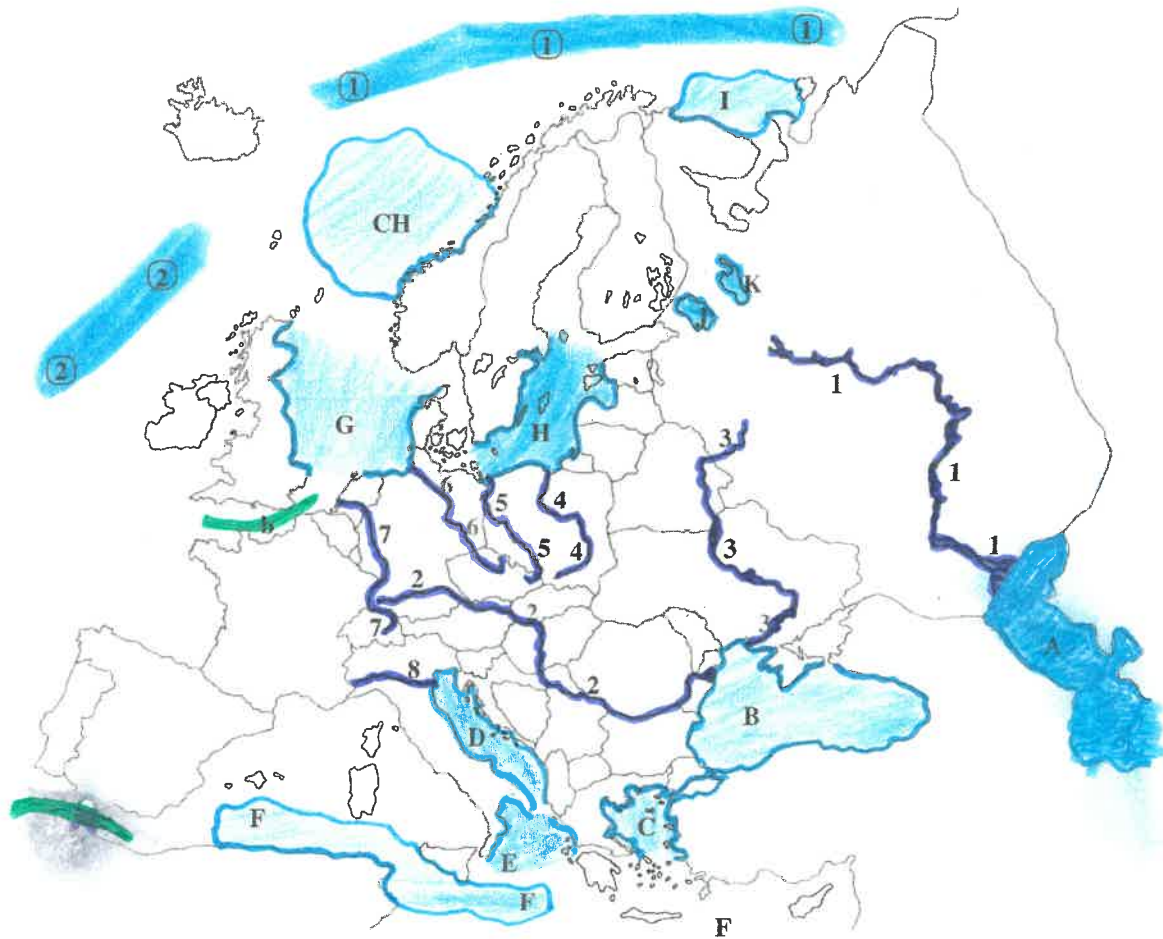
2. Slabiky v rybičkách ti napoví jména evropských řek. Po jejich vylúštění doplň tabulku.

NÁZEV ŘEKY	PRAMENÍ V	ÚSTÍ DO MOŘE
<i>Dunaj</i>	<i>Německo</i>	<i>Černého</i>
<i>Labě</i>	<i>Česká republika</i>	<i>Severního</i>
<i>rád</i>	<i>Itálie</i>	<i>Jaderského</i>
<i>Volha</i>	<i>Rusku</i>	<i>Kaspického</i>
<i>Rýn</i>	<i>Lucembursku</i>	<i>Severního</i>
<i>Odru</i>	<i>Česká republika</i>	<i>Baltského</i>
<i>Visla</i>	<i>Polsku</i>	<i>Baltského</i>
<i>Dněpr</i>	<i>Rusku</i>	<i>Černého</i>



4. VODSTVO EVROPY

1. Vybarvi oceány, moře i jezera Evropy a názvy doplň do tabulky.



ŘEKY	MOŘE	JEZERA
1 - Volha - A	A - Kaspické	J - Ladozské
2 - Dunaj - B	B - Černé	K - Oněžské
3 - Dněpr - B	C - Egypské	
4 - Visla - H	D - Jaderské	
5 - Odra - H	E - Jonské	
6 - Labe - G	F - Severní	
7 - Rýn - G	G - Severní	
8 - Ród - D	H - Baltské	
	CH - Norské	
	I - Bílé	
		PRŮLIVY
		a - Gibraltarský
		b - Lamanšský
		OCEÁNY
		① - Severní ledový
		② - Atlantský

a) Vedle názvů řek napiš pomocí písmen A – I jméno moře, do kterého se řeka vlévá.

b) Pište společně důvody, proč lidé jezdí k moři.

Která moře žáci z vaší třídy navštívili? Jaké počasí a jaká příroda bývá u moře?



ŘEKA - je přirozený vodní tok (tvořený tekoucí vodou); JEZERO - vodní nádrž, která není součástí světového oceánu; MOŘE - velká vodní plocha spojená se světovým oceánem; ZÁLIV - část jezera, moře nebo oceánu, která se zařezává do pevniny

PEKNE!



V. H.

Evropa

① Budu umět pracovat s mapou (ukazovat, pojmenovat)

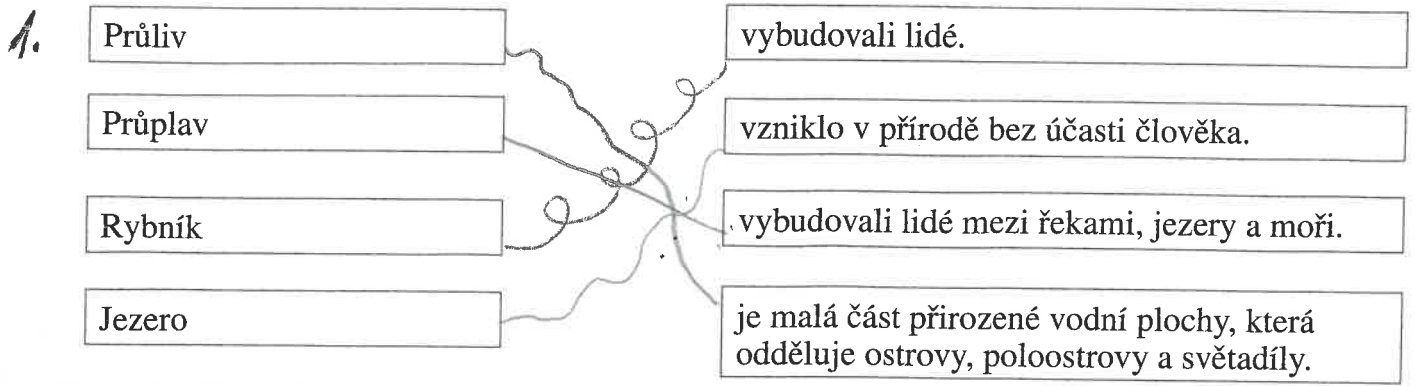
② Budu vědět že:

- ★ Evropa je druhý nejmenší světadíl na severní polokoli.
- ✱ Povrch tvoří převážně nížiny. (nejvýchodnější evropská)
- ✱ Nejvyšší pohoří - Alpy (Mont Blanc 4807 m)
- ✱ Nejvyšší evr. řeka - Volga
- ✱ Nej. jezero - Ladožské

③

Budu umět vysvětlit co je:

- **Ostrov** = část pevniny obklopená vodou
- **Polostrov** = část pevniny vyběhající do moří, obklopená s velhou částí vodou.
- **Moře** = Velká vodní plocha spojená se svět. oceánem
- **Jezero** = Vodní nádrž (plocha), která není spojena se svět. oceánem.
- **Průliv** = Malá, přirozená část vodní plochy, která odděluje souše (pevniny).
- **Průplav** = Je uměle vytvořený člověkem. Spojuje řeku jezero, moře (plouží k dopravě)



2. Následující věty v sobě skrývají názvy evropských řek. Objeviš je?

- Kanadu najdu na mapě Ameriky.
- Našel hodně prvosenek.
- Přečti některý nápis!
- Povol hadici u čerpadla!

Dunaj
Dněpr
Rýn
Volha




3. Před hotelem stála auta cizinců s mezinárodními poznávacími značkami N, I, E, GB. Ze kterých zemí cizinci byli? Na kterých poloostrovech (ostrovech) tyto země leží?

N *Norsko*
 I *Itálie*
 E *Španělsko*
 GB *Velká Británie*

Skandinávský poloostrov
Apeninský poloostrov
Pyrenejský poloostrov
Britské ostrovy

31. října



Asie

- největší světadíl
- největší stát je **Rusko**
- nejlidnatější je **Čína, Indie**
- nejvyšší pohoří **Himaláj (Mount Everest)**

Afrika

- nejdelší řeka **Nil**
- největší poušť světa **Sahara**
- nejvyšší hora **Kilimandžára**

Antarktida


- kolem jižního pólu
- věčný sníh a led
- není trvale obydlena

Ausťálie

- země plokanů a velbloudů
- mnoho pláží
- řídce osídlena
- největší korálový útes světa

Amerika

- Jižní a Severní
- řeky: Amazonka, Mississippi
- největší kaňon na světě je Grand Canyon (16 km, max. hloubka 1539 m)
- Pohory: Andy
- stromy - sekvoje



11/17

11/17 11/17 11/17

11/17

11/17 11/17

11/17

POLITICKÁ MAPA EVROPY (BAREVNÁ) MAPAEVROPY.EU



7. listopadu

ČESKÁ REPUBLIKA

Co umíme ze 4. třídy ~

ČR je demokratický stát a hlavním zákonem je ústava
Státní symboly: velký státní znak, malý státní znak,
státní barvy (bikolora), státní vlajka, vlajka prezidenta,
státní hymna (Kde domov můj)

Československo vzniklo 28. 10. 1918

Prvním prezidentem byl T. G. Masaryk

Česká republika vznikla 1. 1. 1993

Skládá se ze tří historických zemí: Čechy, morava,
Slezsko

na mapě umím vyhledat:

Pohoří ČR a jejich nejvyšší hory
Podle nadmořské výšky rozlišujeme krajinu na nížiny
(zelená barva na mapě) a vysočiny (hnědá).



* Velké řeky, přehrady, jezera, rybníky

